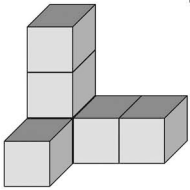
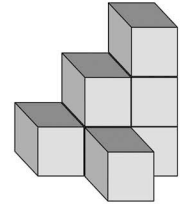


Name: _____

Klasse: _____



Würfel- Baupläne



Würfelgebäude bauen

Karte	1	2	3	4	5	6	7	8	9	10	11	12
erledigt												

Baupläne zeichnen

Karte	13	14	15	16	17	18	19	20	21	22	23	24
erledigt												

Wie viele Würfel sind es?

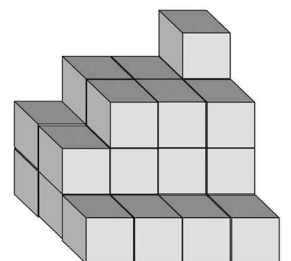
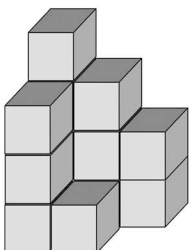
Karte	25	26	27	28	29	30	31	32	33	34	35	36
erledigt												

Seitenansichten


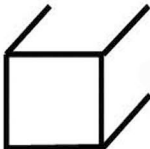
Karte	37	38	39	40	41	42	43	44	45	46	47	48
erledigt												

Experten- und Partneraufgaben

Karte	49	50	51	52/ 1	52/ 2	52/ 3	52/ 4	52/5
erledigt								



So zeichnet man einen Würfel:

1. 
2. 
3. 